


14 Hur lång är getingen i verkligheten?


214



15 I verkligheten är skidorna 1,6 m långa. Vilken är skalan?

214



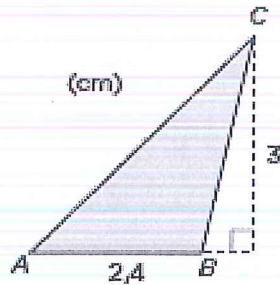
16 Hur lång omkrets har en rund spegel med diametern 12 cm?
 Avrunda till hela centimeter.

219

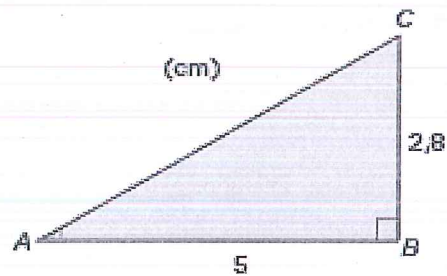
17 Beräkna arean av de båda trianglarna.

225

a)



b)



18 Hur stor volym har rätblocket?

225

